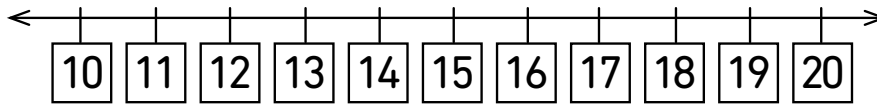


1 Additionne ou soustrais.



a) $16 + 3 = \square$

c) $14 + 3 = \square$

e) $12 - 2 = \square$


b) $18 + 2 = \square$

d) $19 - 3 = \square$


f) $15 - 3 = \square$

2 Additionne.

a) $5 + 6 = \square$



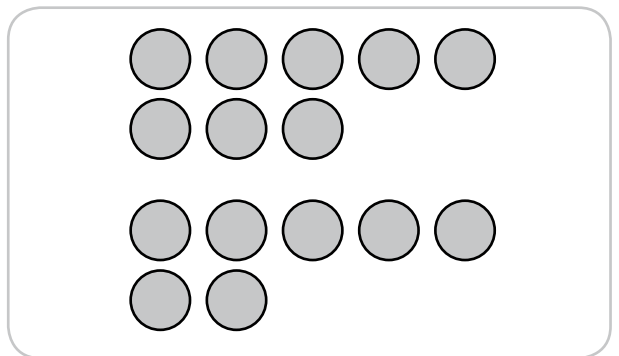
b) $12 + 4 = \square$



c) $9 + 5 = \square$



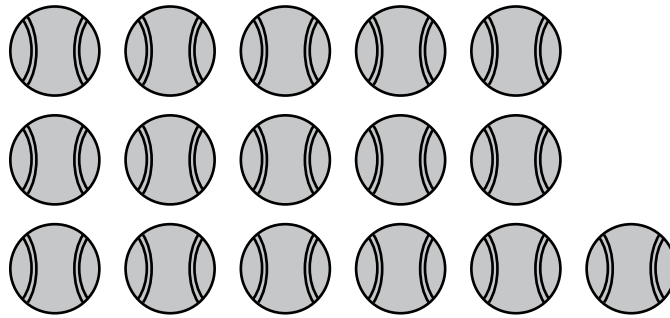
d) $8 + 7 = \square$



3 Adèle et Alice ont 16 balles de tennis.

Adèle a 8 balles de tennis.

Combien de balles de tennis Alice a-t-elle ?



$$\square \ominus \square = \square$$

Alice a balles de tennis.

4 Idris a 13 romans et 6 bandes dessinées.

Combien de livres a-t-il en tout ?

$$\square \oplus \square = \square$$

Idris a livres.

5 Il y a 11 vers de terre.

7 vers de terre sont mangés par les poussins.

Combien de vers de terre reste-t-il ?

$$\square \ominus \square = \square$$

Il reste vers de terre.

